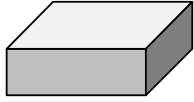


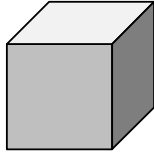
ARBEITSBLATT ZU DEN ABWICKLUNGEN GEOMETRISCHER KÖRPER

Aufgabe 1: Schreibe an jede Figur die Nummer des Körpers, dessen Abwicklung sie ist.
Aber Vorsicht! Einige Figuren sind keine Abwicklung eines Körpers!

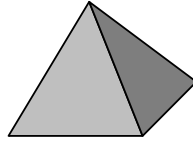
1)



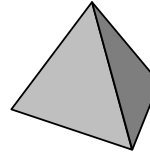
2)



3)



4)



5)

