

Tutorübung zur Vorlesung Grundlagen Rechnernetze und Verteilte Systeme Übungsblatt 9 (17. Juni – 21. Juni 2013)

Hinweis: Die mit * gekennzeichneten Teilaufgaben sind ohne Kenntnis der Ergebnisse vorhergehender Teilaufgaben lösbar.

Aufgabe 1 TCP und Long Fat Networks

In dieser Aufgabe betrachten wir sog. *Long Fat Networks*. Darunter versteht man Verbindungen, welche zwar eine hohe Bandbreite aber insbesondere auch eine hohe Verzögerung aufweisen. Beispiele dafür sind u. a. Satellitenverbindungen in Folge der hohen Ausbreitungsverzögerungen. Wir wollen insbesondere die Auswirkungen auf die TCP-Staukontrolle untersuchen.

a)* Bei TCP wird das Sendefenster in Abhängigkeit des Empfangsfensters sowie des Staukontrollfensters gewählt. Wie lautet der genaue Zusammenhang?

Zwei Nutzer seien nun über einen geostationären Satelliten an das Internet mit hoher Bandbreite angebunden. Die RTT zwischen beiden Nutzern betrage 800 ms, die Bandbreite sei $r = 24$ Mbit/s.

b)* Wie groß muss das Sendefenster (gemessen in Byte) gewählt werden, damit kontinuierlich gesendet werden kann?

c)* Warum ist die Situation in Teilaufgabe b) ein Problem für die TCP-Flusskontrolle?

d)* Lesen Sie Sektion 2 von RFC 1323 (<http://www.ietf.org/rfc/rfc1323.txt>). Beschreiben Sie die Lösung für das Problem aus Teilaufgabe c).


e) Bestimmen Sie den korrekten Wert für das `shift.cnt`-Feld der TCP-Window-Scaling-Option. Berücksichtigen Sie dabei, dass es sich bei TCP um ein Selective-Repeat-Verfahren handelt.

f) Geben Sie den Header des ersten TCP-SYN-Pakets an, welches die Verbindung aufbaut. Verwenden Sie dazu die konkreten Zahlenwerte aus der Angabe. Ein TCP-Header ist zur Erinnerung nochmals in Abbildung 1 dargestellt. Dort finden sich auch zwei Vordrucke zur Lösung.

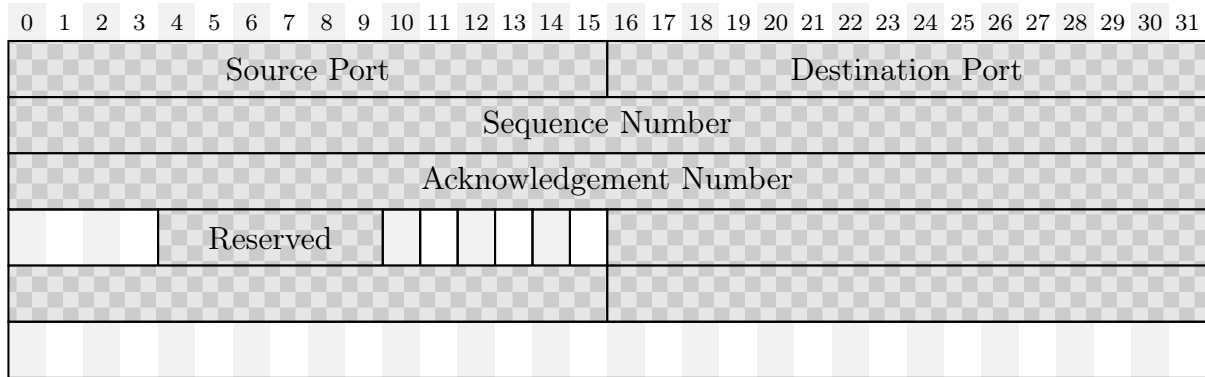
Hinweis: Es ist nicht notwendig, den Header binär auszufüllen. Machen Sie aber bitte deutlich, ob es sich um hexadezimale, dezimale oder binäre Darstellung der Zahlen handelt.

Angenommen die Größe des Staukontrollfensters betrage derzeit die Hälfte des in Teilaufgabe b) berechneten Werts. Die MSS betrage 1500 B und die TCP-Verbindung befinde sich derzeit in der Congestion-Avoidance-Phase.

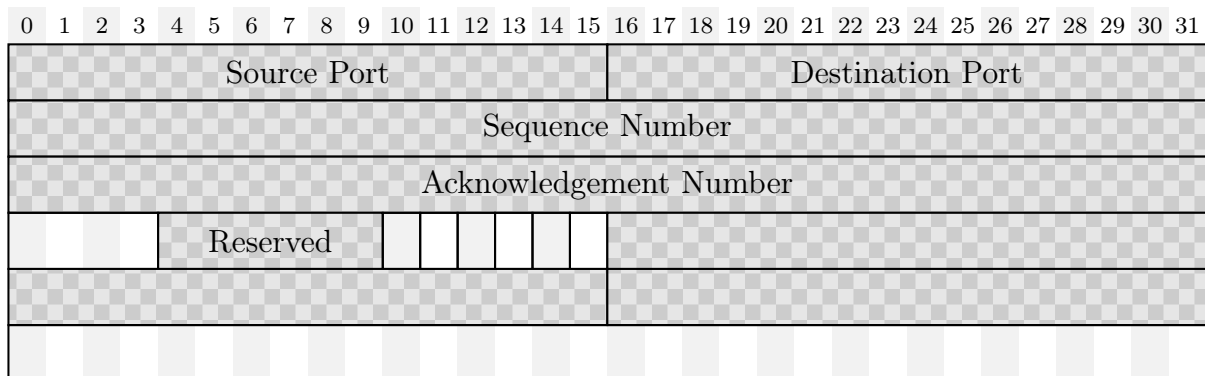
- g) Wie lange dauert es, bis das Fenster die Leitung komplett ausnutzen kann?
Hinweis: Das Staukontrollfenster wird durch TCP-Window-Scaling nicht beeinflusst.
- h) Ergibt sich aus dem Ergebnis von Teilaufgabe g) ein Problem?



(a) TCP-Header



(b) Vordruck



(c) Noch ein Vordruck, falls man sich vermalt hat

Abbildung 1: TCP-Header und Vordrucke zur Lösung von Aufgabe 1